



केन्द्रीय रिजर्व पुलिस बल CENTRAL RESERVE POLICE FORCE

Test Date	24/02/2023
Test Time	04:00 PM - 05:30 PM
Subject	Head Constable Ministerial

Section : Hindi Language

Q.1 वाक्य विन्यास की दृष्टि से शुद्ध वाक्य का चयन कीजिए।

- Ans
- A. कोई नहीं कर सकता सौन्दर्य का वर्णन कन्याकुमारी के सूर्योदय और सूर्यास्त के।
 - B. कन्याकुमारी के सूर्योदय और सूर्यास्त के सौन्दर्य का वर्णन कोई नहीं कर सकता।
 - C. सूर्योदय और सूर्यास्त के सौन्दर्य का वर्णन कोई नहीं कर सकता कन्याकुमारी के।
 - D. कन्याकुमारी के सूर्योदय और सूर्यास्त के वर्णन सौन्दर्य का कोई नहीं कर सकता।

Question ID : 630680177095

Status : Answered

Chosen Option : B

Q.2 वाक्य विन्यास की दृष्टि से शुद्ध वाक्य का चयन कीजिए।

- Ans
- A. एक शिक्षाधिकारी आए हैं लखनऊ से करने हमारे स्कूल का निरीक्षण।
 - B. लखनऊ से एक शिक्षाधिकारी हैं आए हमारे स्कूल का निरीक्षण करने।
 - C. करने हमारे स्कूल का निरीक्षण लखनऊ से एक शिक्षाधिकारी आए हैं।
 - D. हमारे स्कूल का निरीक्षण करने लखनऊ से एक शिक्षाधिकारी आए हैं।

Question ID : 630680177089

Status : Answered

Chosen Option : D

Q.3 निम्न में से कौन-सा वाक्य अपूर्ण भूत का उदाहरण है।

- Ans
- A. रंजना सफल होने की खुशी में झूम-झूम कर नाच रही थी।
 - B. रंजना सफल होने की खुशी में झूम-झूम कर नाच रही है।
 - C. रंजना सफल होने की खुशी में झूम-झूम कर नाच चुकी थी।
 - D. रंजना सफल होने की खुशी में झूम-झूम कर नाच रही होगी।

Question ID : 630680177108

Status : Answered

Chosen Option : A

Q.4 वाक्य के रिक्त स्थान के लिए उपयुक्त विकल्प चुनकर वाक्य पूर्ण करें।
अपने कार्य का अनौचित्य मालूम होने पर सुशील को _____ हुई \ हुआ।

- Ans
- A. हिचक
 - B. संकोच
 - C. लज्जा
 - D. ग्लानी

Question ID : 630680177102
Status : Answered
Chosen Option : D

Q.5 निम्न में से स्थानवाचक अव्यय शब्द है।

- Ans
- A. आजकल
 - B. अभी-तभी
 - C. इधर-उधर
 - D. भीतर

Question ID : 630680177114
Status : Answered
Chosen Option : C

Q.6 वाक्य विन्यास की दृष्टि से शुद्ध वाक्य का चयन कीजिए।

- Ans
- A. बड़ा काम नहीं छोड़ा जाता थोड़ी सी कठिनाई के कारण कोई।
 - B. कोई बड़ा काम नहीं छोड़ा जाता थोड़ी सी कठिनाई के कारण।
 - C. थोड़ी सी कठिनाई के कारण कोई बड़ा काम नहीं छोड़ा जाता।
 - D. कारण थोड़ी सी कठिनाई के बड़ा काम नहीं छोड़ा जाता कोई।

Question ID : 630680177071
Status : Answered
Chosen Option : C

Q.7 वाक्य विन्यास की दृष्टि से शुद्ध वाक्य का चयन कीजिए।

- Ans
- A. निश्चित वेतन किया जाएगा अभ्यर्थी की योग्यता के अनुसार।
 - B. निश्चित किया जाएगा वेतन अभ्यर्थी की योग्यता के अनुसार।
 - C. अभ्यर्थी की योग्यता के अनुसार वेतन निश्चित किया जाएगा।
 - D. अभ्यर्थी की योग्यता के अनुसार वेतन किया जाएगा निश्चित।

Question ID : 630680177093
Status : Answered
Chosen Option : C

Q.8 वर्तनी की दृष्टि से दिए गए वाक्य का कौन-सा शब्द अशुद्ध है।
पण्डितजी ने हवन के लिए आवश्यक सामग्री मँगवाई है।

- Ans
- A. मँगवाई
 - B. सामग्री
 - C. आवश्यक
 - D. पण्डितजी

Question ID : 630680177053
Status : Answered
Chosen Option : B

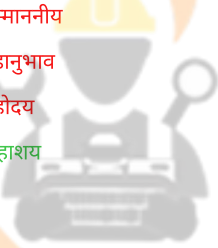
Q.9 निम्न में से सकर्मक क्रिया का उदाहरण वाक्य है।

- Ans
- A. अनिष्ट की आशंका से जी घबराता है।
 - B. तुम्हारा दिल इमली के लिए ललचाता है।
 - C. वह अपना सिर खुजलाता है।
 - D. अपनी प्रशंसा सुनकर वह लजा रही है।

Question ID : 630680177123
Status : Answered
Chosen Option : C

Q.10 निम्नलिखित में से 'आम सभ्य व्यक्ति' के लिए आदरसूचक सम्बोधन शब्द है।

- Ans
- A. सम्माननीय
 - B. महानुभाव
 - C. महोदय
 - D. महाशय



INDIA

Question ID : 630680177048
Status : Answered
Chosen Option : B

Q.11 निम्नलिखित में से 'कच्छप' का पर्याय है।

- Ans
- A. कमठ
 - B. कर्पट
 - C. कर्मठ
 - D. कटक

Question ID : 630680177047
Status : Not Answered
Chosen Option : --

Q.12 वाक्य विन्यास की दृष्टि से शुद्ध वाक्य का चयन कीजिए।

- Ans A. मालखाने में जमा करने को घोषणा में लोगों से अपने-अपने हथियार कहा गया।
 B. घोषणा में लोगों से अपने-अपने हथियार मालखाने में जमा करने को कहा गया।
 C. घोषणा में लोगों से हथियार अपने-अपने मालखाने में जमा करने को कहा गया।
 D. मालखाने में जमा करने को कहा गया घोषणा में लोगों से अपने-अपने हथियार।

Question ID : 630680177074

Status : Answered

Chosen Option : B

Q.13 निम्नलिखित में से कौन-सी लोकोक्ति अपने अर्थ से सुमेलित नहीं है।

- Ans A. कुत्ता भी दुम हिलाकर बैठता है - घर में आनेवाले का सत्कार करना चाहिए।
 B. काला अक्षर भैंस बराबर - न पढ़ा न लिखा।
 C. कर सेवा खा मेवा - सेवा करने वाले को अच्छा फल मिलता है।
 D. करे कोई भरे कोई - किसी की करनी का फल कोई और भोगे।

Question ID : 630680177067

Status : Answered

Chosen Option : A

Q.14 निम्न में से कौन-सा वाक्य हेतुहेतुमद् भविष्यकाल का उदाहरण है।

- Ans A. वह चला गया था इसलिए फाटक बंद कर दिया।
 B. वह चला गया फाटक बंद कर दो।
 C. वह चला गया होगा फाटक बंद कर दो।
 D. यदि वह चला गया ही तो फाटक बंद कर दो।

Question ID : 630680177110

Status : Answered

Chosen Option : C

Q.15 वाक्य विन्यास की दृष्टि से शुद्ध वाक्य का चयन कीजिए।

- Ans A. बुरा होता है उसका अपना जो दूसरों का बुरा चाहता है।
 B. जो दूसरों का बुरा चाहता है उसका अपना बुरा होता है।
 C. उसका बुरा होता है अपना जो दूसरों का बुरा चाहता है।
 D. जो दूसरों का बुरा चाहता है बुरा होता है उसका अपना।

Question ID : 630680177068

Status : Answered

Chosen Option : B

Q.16 तुम्हारे घर पर चार आदमी हैं।' वाक्य में कारक है।

- Ans A. अधिकरणकारक
 B. अपादानकारक
 C. सम्बोधनकारक
 D. सम्प्रदानकारक

Question ID : 630680177118

Status : Answered

Chosen Option : A

Q.17 'नाव में धूल उड़ाना' मुहावरे का अर्थ है।

- Ans A. भारी विपत्ति आ जाना
 B. व्यर्थ बदनाम करना
 C. होश न रहना
 D. सम्बंध समाप्त कर देना

Question ID : 630680177063

Status : Answered

Chosen Option : B

Q.18 वर्तनी की दृष्टि से दिए गए वाक्य का कौन-सा शब्द अशुद्ध है।
मध्ययुग में काबुल भारतीय साम्राज्य के आधीन था।

- Ans A. साम्राज्य
 B. भारतीय
 C. आधीन
 D. मध्ययुग

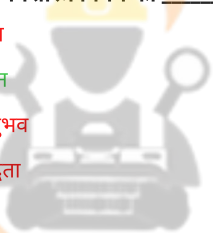
Question ID : 630680177059

Status : Answered

Chosen Option : C

Q.19 वाक्य के रिक्त स्थान के लिए उपयुक्त विकल्प चुनकर वाक्य पूर्ण करें।
शमा को रसायनशास्त्र विषय का _____ नहीं है।

- Ans A. बोध
 B. ज्ञान
 C. अनुभव
 D. विद्वता



INDIA

Question ID : 630680177087

Status : Answered

Chosen Option : B

Q.20 वाक्य विन्यास की दृष्टि से शुद्ध वाक्य का चयन कीजिए।

- Ans A. परिश्रम करना था चाहिए उसे कमी पूरी करने के लिए अपनी।
 B. उसे अपनी कमी पूरी करने के लिए चाहिए था परिश्रम करना।
 C. उसे अपनी कमी पूरी करने के लिए परिश्रम करना चाहिए था।
 D. परिश्रम करना चाहिए था उसे अपनी पूरी करने के लिए कमी।

Question ID : 630680177072

Status : Answered

Chosen Option : C

Comprehension:

हिंदी की आधुनिक कहानी अंग्रेज़ी साहित्य से हिंदी में आयी। पाश्चात्य देशों में एडगर एलन पो आधुनिक कहानी के जन्मदाताओं में प्रमुख माने जाते हैं। हडसन के अनुसार, लघु कहानी में केवल एक ही मूल भाव होता है। एलेरी ने कहानी की परिभाषा देते हुए उसकी सक्रियता पर अधिक बल दिया है। चंद्रधर शर्मा 'गुलेरी' की 'उसने कहा था' कहानी को मधुरेश ने शिल्प विधान के आधार पर हिंदी की पहली कहानी माना है। देवीप्रसाद वर्मा ने माधव सप्रे की कहानी 'एक टोकरी भर मिट्टी' को हिंदी की पहली मौलिक कहानी सिद्ध किया है। डॉ. बच्चन सिंह ने किशोरीलाल गोस्वामी की कहानी 'प्रणयिनी परिणय' को पहली कहानी माना है। नयी कहानी के विरोध में सचेतन कहानी नामक आंदोलन सामने आया। इसके प्रस्तावक डॉ. महीप सिंह ने कहा "नयी कहानी के अंदर जो अंतर्विरोध थे, उन्हें स्पष्ट करने के लिए और जीवन के प्रति जो सचेतन दृष्टि हम चाहते थे, जिसमें हम यह अनुभव करते थे कि जीवन को मात्र प्रदत्त वस्तु के स्तर पर नहीं जीना चाहिए, बल्कि सक्रियता से भोगना और जीना आज के मनुष्य की नियति है, उसे अपनी रचनाओं के माध्यम से हम रेखांकित करना चाहते थे।" जनवादी कहानी अपनी मूल प्रकृति में सामान्य जन के संघर्ष की पक्षधर है तथा उसका वैचारिक आधार मार्क्सवाद है। जनवादी कहानी का सर्वाधिक बल सर्वहारा तथा मध्यवर्ग द्वारा किये जा रहे शोषण-विरोधी संघर्ष पर है। जनवादी कहानी की मूल प्रवृत्ति श्रमजीवी के प्रति सहानुभूति है।

SubQuestion No : 21

Q.21 सचेतन कहानी के संदर्भ में असत्य है:

- Ans A. सचेतन कहानी के प्रस्तावक महीप सिंह हैं।
- B. नयी कहानी के अंदर अंतर्विरोधों को स्पष्ट करने के लिए यह आंदोलन चलाया गया।
- C. सचेतन कहानी मानव जीवन को सक्रियता से भोगना और जीना मनुष्य की नियति मानती है।
- D. सचेतन कहानी जीवन को ईश्वर द्वारा प्रदत्त वस्तु की तरह जीने को अपनी रचनाओं में रेखांकित करती है।

Question ID : 630680177138

Status : Answered

Chosen Option : D

Comprehension:

हिंदी की आधुनिक कहानी अंग्रेज़ी साहित्य से हिंदी में आयी। पाश्चात्य देशों में एडगर एलन पो आधुनिक कहानी के जन्मदाताओं में प्रमुख माने जाते हैं। हडसन के अनुसार, लघु कहानी में केवल एक ही मूल भाव होता है। एलेरी ने कहानी की परिभाषा देते हुए उसकी सक्रियता पर अधिक बल दिया है। चंद्रधर शर्मा 'गुलेरी' की 'उसने कहा था' कहानी को मधुरेश ने शिल्प विधान के आधार पर हिंदी की पहली कहानी माना है। देवीप्रसाद वर्मा ने माधव सप्रे की कहानी 'एक टोकरी भर मिट्टी' को हिंदी की पहली मौलिक कहानी सिद्ध किया है। डॉ. बच्चन सिंह ने किशोरीलाल गोस्वामी की कहानी 'प्रणयिनी परिणय' को पहली कहानी माना है। नयी कहानी के विरोध में सचेतन कहानी नामक आंदोलन सामने आया। इसके प्रस्तावक डॉ. महीप सिंह ने कहा "नयी कहानी के अंदर जो अंतर्विरोध थे, उन्हें स्पष्ट करने के लिए और जीवन के प्रति जो सचेतन दृष्टि हम चाहते थे, जिसमें हम यह अनुभव करते थे कि जीवन को मात्र प्रदत्त वस्तु के स्तर पर नहीं जीना चाहिए, बल्कि सक्रियता से भोगना और जीना आज के मनुष्य की नियति है, उसे अपनी रचनाओं के माध्यम से हम रेखांकित करना चाहते थे।" जनवादी कहानी अपनी मूल प्रकृति में सामान्य जन के संघर्ष की पक्षधर है तथा उसका वैचारिक आधार मार्क्सवाद है। जनवादी कहानी का सर्वाधिक बल सर्वहारा तथा मध्यवर्ग द्वारा किये जा रहे शोषण-विरोधी संघर्ष पर है। जनवादी कहानी की मूल प्रवृत्ति श्रमजीवी के प्रति सहानुभूति है।

SubQuestion No : 22

Q.22 निम्न में से संघर्ष का पर्यायवाची शब्द नहीं है।

- Ans A. समर
- B. संग्राम
- C. निर्वाण
- D. स्पर्धा

Question ID : 630680177140

Status : Answered

Chosen Option : A

Comprehension:

हिंदी की आधुनिक कहानी अंग्रेज़ी साहित्य से हिंदी में आयी। पाश्चात्य देशों में एडगर एलन पो आधुनिक कहानी के जन्मदाताओं में प्रमुख माने जाते हैं। हडसन के अनुसार, लघु कहानी में केवल एक ही मूल भाव होता है। एलेरी ने कहानी की परिभाषा देते हुए उसकी सक्रियता पर अधिक बल दिया है। चंद्रधर शर्मा 'गुलेरी' की 'उसने कहा था' कहानी को मधुरेश ने शिल्प विधान के आधार पर हिंदी की पहली कहानी माना है। देवीप्रसाद वर्मा ने माधव सप्रे की कहानी 'एक टोकरी भर मिट्टी' को हिंदी की पहली मौलिक कहानी सिद्ध किया है। डॉ. बच्चन सिंह ने किशोरीलाल गोस्वामी की कहानी 'प्रणयिनी परिणय' को पहली कहानी माना है। नयी कहानी के विरोध में सचेतन कहानी नामक आंदोलन सामने आया। इसके प्रस्तावक डॉ. महीप सिंह ने कहा "नयी कहानी के अंदर जो अंतर्विरोध थे, उन्हें स्पष्ट करने के लिए और जीवन के प्रति जो सचेतन दृष्टि हम चाहते थे, जिसमें हम यह अनुभव करते थे कि जीवन को मात्र प्रदत्त वस्तु के स्तर पर नहीं जीना चाहिए, बल्कि सक्रियता से भोगना और जीना आज के मनुष्य की नियति है, उसे अपनी रचनाओं के माध्यम से हम रेखांकित करना चाहते थे।" जनवादी कहानी अपनी मूल प्रकृति में सामान्य जन के संघर्ष की पक्षधर है तथा उसका वैचारिक आधार मार्क्सवाद है। जनवादी कहानी का सर्वाधिक बल सर्वहारा तथा मध्यवर्ग द्वारा किये जा रहे शोषण-विरोधी संघर्ष पर है। जनवादी कहानी की मूल प्रवृत्ति श्रमजीवी के प्रति सहानुभूति है।

SubQuestion No : 23

Q.23 जनवादी कहानी के विषय में असत्य है।

- Ans A. जनवादी कहानी का वैचारिक आधार सार्त्र का अस्तित्ववाद है।
- B. जनवादी कहानी का सर्वाधिक बल सर्वहारा तथा मध्य वर्ग द्वारा किये जा रहे शोषण-विरोधी संघर्ष पर है।
- C. जनवादी कहानी अपनी मूल प्रकृति में सामान्य जन के संघर्ष की पक्षधर है।
- D. जनवादी कहानी की मूल प्रवृत्ति श्रमजीवी के प्रति सहानुभूति है।

Question ID : 630680177141

Status : Answered

Chosen Option : A

Comprehension:

हिंदी की आधुनिक कहानी अंग्रेज़ी साहित्य से हिंदी में आयी। पाश्चात्य देशों में एडगर एलन पो आधुनिक कहानी के जन्मदाताओं में प्रमुख माने जाते हैं। हडसन के अनुसार, लघु कहानी में केवल एक ही मूल भाव होता है। एलेरी ने कहानी की परिभाषा देते हुए उसकी सक्रियता पर अधिक बल दिया है। चंद्रधर शर्मा 'गुलेरी' की 'उसने कहा था' कहानी को मधुरेश ने शिल्प विधान के आधार पर हिंदी की पहली कहानी माना है। देवीप्रसाद वर्मा ने माधव सप्रे की कहानी 'एक टोकरी भर मिट्टी' को हिंदी की पहली मौलिक कहानी सिद्ध किया है। डॉ. बच्चन सिंह ने किशोरीलाल गोस्वामी की कहानी 'प्रणयिनी परिणय' को पहली कहानी माना है। नयी कहानी के विरोध में सचेतन कहानी नामक आंदोलन सामने आया। इसके प्रस्तावक डॉ. महीप सिंह ने कहा "नयी कहानी के अंदर जो अंतर्विरोध थे, उन्हें स्पष्ट करने के लिए और जीवन के प्रति जो सचेतन दृष्टि हम चाहते थे, जिसमें हम यह अनुभव करते थे कि जीवन को मात्र प्रदत्त वस्तु के स्तर पर नहीं जीना चाहिए, बल्कि सक्रियता से भोगना और जीना आज के मनुष्य की नियति है, उसे अपनी रचनाओं के माध्यम से हम रेखांकित करना चाहते थे।" जनवादी कहानी अपनी मूल प्रकृति में सामान्य जन के संघर्ष की पक्षधर है तथा उसका वैचारिक आधार मार्क्सवाद है। जनवादी कहानी का सर्वाधिक बल सर्वहारा तथा मध्यवर्ग द्वारा किये जा रहे शोषण-विरोधी संघर्ष पर है। जनवादी कहानी की मूल प्रवृत्ति श्रमजीवी के प्रति सहानुभूति है।

SubQuestion No : 24

Q.24 पाश्चात्य देश में कहानी के जन्मदाता स्वीकार किये जाते है।

- Ans A. गुलेरी
- B. हडसन
- C. एडगर एलन पो
- D. एलेरी

Question ID : 630680177139

Status : Answered

Chosen Option : C

Comprehension:

हिंदी की आधुनिक कहानी अंग्रेज़ी साहित्य से हिंदी में आयी। पाश्चात्य देशों में एडगर एलन पो आधुनिक कहानी के जन्मदाताओं में प्रमुख माने जाते हैं। हडसन के अनुसार, लघु कहानी में केवल एक ही मूल भाव होता है। एलेरी ने कहानी की परिभाषा देते हुए उसकी सक्रियता पर अधिक बल दिया है। चंद्रधर शर्मा 'गुलेरी' की 'उसने कहा था' कहानी को मधुरेश ने शिल्प विधान के आधार पर हिंदी की पहली कहानी माना है। देवीप्रसाद वर्मा ने माधव सप्रे की कहानी 'एक टोकरी भर मिट्टी' को हिंदी की पहली मौलिक कहानी सिद्ध किया है। डॉ. बच्चन सिंह ने किशोरीलाल गोस्वामी की कहानी 'प्रणयिनी परिणय' को पहली कहानी माना है। नयी कहानी के विरोध में सचेतन कहानी नामक आंदोलन सामने आया। इसके प्रस्तावक डॉ. महीप सिंह ने कहा "नयी कहानी के अंदर जो अंतर्विरोध थे, उन्हें स्पष्ट करने के लिए और जीवन के प्रति जो सचेतन दृष्टि हम चाहते थे, जिसमें हम यह अनुभव करते थे कि जीवन को मात्र प्रदत्त वस्तु के स्तर पर नहीं जीना चाहिए, बल्कि सक्रियता से भोगना और जीना आज के मनुष्य की नियति है, उसे अपनी रचनाओं के माध्यम से हम रेखांकित करना चाहते थे।" जनवादी कहानी अपनी मूल प्रकृति में सामान्य जन के संघर्ष की पक्षधर है तथा उसका वैचारिक आधार मार्क्सवाद है। जनवादी कहानी का सर्वाधिक बल सर्वहारा तथा मध्यवर्ग द्वारा किये जा रहे शोषण-विरोधी संघर्ष पर है। जनवादी कहानी की मूल प्रवृत्ति श्रमजीवी के प्रति सहानुभूति है।

SubQuestion No : 25

Q.25 देवीप्रसाद वर्मा ने किस कहानी को हिंदी की पहली कहानी स्वीकार किया है?

- Ans A. इंदुमति
 B. एक टोकरी भर मिट्टी
 C. प्रणयिनी परिणय
 D. उसने कहा था

Question ID : 630680177137

Status : Answered

Chosen Option : B

Section : English Language

Q.1 Select the most appropriate adjective that can substitute the underlined word in the given sentence.

Today our country is in a far good position than it was 23 years ago.

- Ans A. better
 B. evil
 C. nice
 D. best

INDIA

Question ID : 630680177383

Status : Not Answered

Chosen Option : --

Q.2 Sentences of a paragraph are given below in jumbled order. Arrange the sentences in the correct order to form a meaningful and coherent paragraph.

- (A) A great mission of liberation has fallen to your lot.
(B) The whole world is looking to you as a force capable of destroying the brigand hordes of German invaders.
(C) Be worthy of this mission!
(D) The enslaved peoples of Europe under the yoke of the German invaders are looking to you as their liberators.

- Ans A. DCBA
 B. BDAC
 C. DBCA
 D. ABCD

Question ID : 630680177355

Status : Not Answered

Chosen Option : --

Q.3 Select the correct spelling of the word underlined in the given sentence.
And yet, despite the ocassion, few long remembered what he said.

- Ans
- A. Ocattion
 - B. Occasion
 - C. Occation
 - D. Occashun

Question ID : 630680177344
Status : Not Answered
Chosen Option : --

Q.4 Select the correct spelling of the word underlined in the given sentence.
Her own mother was promeenent in the newly formed Burmese government.

- Ans
- A. Prominent
 - B. Promment
 - C. Promenent
 - D. Prauminent

Question ID : 630680177340
Status : Not Answered
Chosen Option : --

Q.5 Sentences of a paragraph are given below in jumbled order. Arrange the sentences in the correct order to form a meaningful and coherent paragraph.
(A) May the star never set and hope never be betrayed!
(B) It is a fateful moment for us in India, for all of Asia and for the world.
(C) We rejoice in that freedom.
(D) A new star rises, the star of freedom in the east, a new hope comes into being, a vision long cherished materialises.

- Ans
- A. ABCD
 - B. CADB
 - C. BCAD
 - D. BDAC

Question ID : 630680177348
Status : Not Answered
Chosen Option : --

Q.6 Select the most appropriate option that can substitute the underlined segment in the given sentence.
But it soon became apparent that Napoleon had a plan or purpose to do more than just sit around writing history books.

- Ans
- A. intended
 - B. captivated
 - C. launched
 - D. endured

Question ID : 630680177377
Status : Not Answered
Chosen Option : --

Q.7 Select the most appropriate ANTONYM of the underlined word.
We go to liberate, not conquer.

- Ans A. Party
 B. Bind
 C. Free
 D. Rescue

Question ID : 630680177327
Status : Not Answered
Chosen Option : --

Q.8 Select the most appropriate option that conveys the meaning of the words in the brackets to fill in the blanks.

This speech sets out the _____ (an idea or fact that something is based on) for a _____ (causing or being an example of great change) new system of religious belief.

- Ans A. illustration; negative
 B. example; damaging
 C. sketch; modern
 D. foundation; radical

Question ID : 630680177361
Status : Not Answered
Chosen Option : --

Q.9 Select the most appropriate past tense of the verb in the brackets to fill in the blank in the sentence below.

As I say the words, I remember the look on her face when I _____ (tell) her about the indictment.

- Ans A. was told
 B. has telled
 C. told
 D. telled

Question ID : 630680177402
Status : Not Answered
Chosen Option : --

Q.10 Select the most appropriate idiom that can substitute the underlined segment in the given sentence.

The corrupt minister was waiting for the right time to overthrow the king and occupy the throne.

- Ans A. biding his time
 B. plotting thickly
 C. counting his blessings
 D. thanking his lucky stars

Question ID : 630680177335
Status : Not Answered
Chosen Option : --

Q.11 Select the most appropriate synonym of the underlined word.
The great lines resonate with amazing power.

- Ans A. Surround
 B. Dampened
 C. Echo
 D. Filled

Question ID : 630680177331
Status : Not Answered
Chosen Option : --

Q.12 Select the most appropriate verb that can substitute the underlined words in the given sentence.
Into this apartheid America has born Martin Luther King Jr.

- Ans A. borning
 B. was born
 C. being born
 D. had born

Question ID : 630680177384
Status : Not Answered
Chosen Option : --

Q.13 Select the most appropriate article to fill in the blank. In case no article is needed, select 'No article needed'.
We are citizens of ____ great country, on the verge of bold advance.

- Ans A. No article needed
 B. the
 C. an
 D. a

INDIA

Question ID : 630680177392
Status : Not Answered
Chosen Option : --

Q.14 Select the most appropriate present tense of the verb in the brackets to fill in the blank in the sentence below.

Larry ____ (need) to stay as far away from that as possible, or it could cost him the election.

- Ans A. needs
 B. is needing
 C. has needing
 D. needing

Question ID : 630680177397
Status : Not Answered
Chosen Option : --

Q.15 Sentences of a paragraph are given below in jumbled order. Arrange the sentences in the correct order to form a meaningful and coherent paragraph.

- (A) My people, some of them, have run away to the hills and have no blankets, no food.
- (B) It is cold, and we have no blankets; the little children are freezing to death.
- (C) I want to have time to look for my children and see how many of them I can find.
- (D) No one knows where they are—perhaps freezing to death.

Ans A. DCBA

B. ACDB

C. CBAD

D. BADC

Question ID : 630680177352

Status : Not Answered

Chosen Option : --

Q.16 Select the most appropriate proverb that can substitute the underlined sentence given below.

Don't underestimate Ritika just because she is very quiet in the classroom. A person who does not say much may know a lot.

Ans A. All that glitters is not gold.

B. Strike the iron while it is hot.

C. Still waters run deep.

D. One swallow does not make a summer.

Question ID : 630680177339

Status : Not Answered

Chosen Option : --

Q.17 Select the most appropriate option that can substitute the underlined segment in the given sentence.

Let the a person, especially a ruler, who has unlimited power over other people, and often uses it unfairly and cruelly govern by terror his brutalised subjects.

Ans A. head

B. despot

C. king

D. governor

Question ID : 630680177372

Status : Not Answered

Chosen Option : --

Q.18 Choose the right options that can fill the blanks (1) and (2) conveying the meaning in brackets.

Sometimes the ____ (1) (a piece of information that is only known by one person or a few people and should not be told to others) lies in the ____ (2) (a strong pattern of sounds, words, or musical notes that is used in music, poetry, and dancing) of the words.

Ans A. Charm, arrangement

B. Plot, difficulty

C. secret, rhythm

D. Time, tune

Question ID : 630680177356

Status : Not Answered

Chosen Option : --

Q.19 Select the most appropriate option that conveys the meaning of the words in the brackets to fill in the blanks.

In the midst of a _____ (a large and violent event, such as a war, involving a lot of people) of war, we _____ (arranged according to a particular system) the Red Army and converted our country into a military camp.

- Ans
- A. plague; decimated
 - B. pandemic; enrolled
 - C. break out; recruited
 - D. conflagration; organised

Question ID : 630680177365

Status : Not Answered

Chosen Option : --

Q.20 Select the most appropriate article to fill in the blank. In case no article is needed, select 'No article needed'.

Britain's economy came through _____ pain of mass unemployment.

- Ans
- A. a
 - B. the
 - C. an
 - D. No article needed

Question ID : 630680177388

Status : Not Answered

Chosen Option : --

Comprehension:

The Supreme Court's timely intervention has halted the forcible eviction of some 50,000 people from Haldwani in Uttarakhand, where the occupants are accused of squatting on railway property for decades. The Uttarakhand High Court had taken a tough stand against the residents and passed a slew of directions that would have entailed their eviction within a week, backed by force, including the deployment of paramilitary forces. It is significant that the Bench underscored the human angle to the issue and spoke about the need for rehabilitation before eviction while staying the order. In an earlier round of litigation over the same land, which adjoins the Haldwani Railway Station, court orders had allowed proceedings against individual occupants under the Public Premises (Eviction of Unauthorised occupants) Act, 1971, to be completed. This time, too, it was on a PIL that the High Court had passed its orders.

Conflicts between occupants of public land and the state that wants to reclaim the land are a never-ending saga in the country. A shortage of housing as well as inadequate recognition of the right to shelter means that large masses of people encroach on vacant land, be in on the bed of water bodies or government property. This often leads to attempts to evict the occupants and spawns litigation. Invariably, there are claims to occupancy rights based on long years of stay at the same location.

SubQuestion No : 21

Q.21 What is the meaning of the word 'eviction' used in the passage?

- Ans
- A. The act of forcing someone to commit a crime
 - B. The act of forcing someone to leave a place
 - C. The act of forcing someone to pay a bribe
 - D. The act of forcing someone to stay in a place

Question ID : 630680177426

Status : Not Answered

Chosen Option : --

Comprehension:

The Supreme Court's timely intervention has halted the forcible eviction of some 50,000 people from Haldwani in Uttarakhand, where the occupants are accused of squatting on railway property for decades. The Uttarakhand High Court had taken a tough stand against the residents and passed a slew of directions that would have entailed their eviction within a week, backed by force, including the deployment of paramilitary forces. It is significant that the Bench underscored the human angle to the issue and spoke about the need for rehabilitation before eviction while staying the order. In an earlier round of litigation over the same land, which adjoins the Haldwani Railway Station, court orders had allowed proceedings against individual occupants under the Public Premises (Eviction of Unauthorised occupants) Act, 1971, to be completed. This time, too, it was on a PIL that the High Court had passed its orders.

Conflicts between occupants of public land and the state that wants to reclaim the land are a never-ending saga in the country. A shortage of housing as well as inadequate recognition of the right to shelter means that large masses of people encroach on vacant land, be in on the bed of water bodies or government property. This often leads to attempts to evict the occupants and spawns litigation. Invariably, there are claims to occupancy rights based on long years of stay at the same location.

SubQuestion No : 22

Q.22 Identify the tone of the passage.

Ans A. Laudatory

B. Sarcastic

C. Bitter

D. Critical

Question ID : 630680177425

Status : Not Answered

Chosen Option : --

Comprehension:

The Supreme Court's timely intervention has halted the forcible eviction of some 50,000 people from Haldwani in Uttarakhand, where the occupants are accused of squatting on railway property for decades. The Uttarakhand High Court had taken a tough stand against the residents and passed a slew of directions that would have entailed their eviction within a week, backed by force, including the deployment of paramilitary forces. It is significant that the Bench underscored the human angle to the issue and spoke about the need for rehabilitation before eviction while staying the order. In an earlier round of litigation over the same land, which adjoins the Haldwani Railway Station, court orders had allowed proceedings against individual occupants under the Public Premises (Eviction of Unauthorised occupants) Act, 1971, to be completed. This time, too, it was on a PIL that the High Court had passed its orders.

Conflicts between occupants of public land and the state that wants to reclaim the land are a never-ending saga in the country. A shortage of housing as well as inadequate recognition of the right to shelter means that large masses of people encroach on vacant land, be in on the bed of water bodies or government property. This often leads to attempts to evict the occupants and spawns litigation. Invariably, there are claims to occupancy rights based on long years of stay at the same location.

SubQuestion No : 23

Q.23 What is the central theme of the passage?

Ans A. Supreme court versus High court

B. Government land – pros and cons

C. Public Premises (Eviction of Unauthorised occupants) Act, 1971

D. Stay against Uttarakhand High Court eviction order

Question ID : 630680177423

Status : Not Answered

Chosen Option : --

Comprehension:

The Supreme Court's timely intervention has halted the forcible eviction of some 50,000 people from Haldwani in Uttarakhand, where the occupants are accused of squatting on railway property for decades. The Uttarakhand High Court had taken a tough stand against the residents and passed a slew of directions that would have entailed their eviction within a week, backed by force, including the deployment of paramilitary forces. It is significant that the Bench underscored the human angle to the issue and spoke about the need for rehabilitation before eviction while staying the order. In an earlier round of litigation over the same land, which adjoins the Haldwani Railway Station, court orders had allowed proceedings against individual occupants under the Public Premises (Eviction of Unauthorised occupants) Act, 1971, to be completed. This time, too, it was on a PIL that the High Court had passed its orders.

Conflicts between occupants of public land and the state that wants to reclaim the land are a never-ending saga in the country. A shortage of housing as well as inadequate recognition of the right to shelter means that large masses of people encroach on vacant land, be in on the bed of water bodies or government property. This often leads to attempts to evict the occupants and spawns litigation. Invariably, there are claims to occupancy rights based on long years of stay at the same location.

SubQuestion No : 24**Q.24 Which of the following is not a fact cited in the passage?**

- Ans A. 50,000 people were to be evicted in Haldwani.
- B. Haldwani is in Uttarakhand.
- C. Uttarakhand High Court order included deployment of paramilitary forces for eviction.
- D. Litigation is over the land adjoining Haldwani airport.

Question ID : 630680177424

Status : Not Answered

Chosen Option : --

Comprehension:

The Supreme Court's timely intervention has halted the forcible eviction of some 50,000 people from Haldwani in Uttarakhand, where the occupants are accused of squatting on railway property for decades. The Uttarakhand High Court had taken a tough stand against the residents and passed a slew of directions that would have entailed their eviction within a week, backed by force, including the deployment of paramilitary forces. It is significant that the Bench underscored the human angle to the issue and spoke about the need for rehabilitation before eviction while staying the order. In an earlier round of litigation over the same land, which adjoins the Haldwani Railway Station, court orders had allowed proceedings against individual occupants under the Public Premises (Eviction of Unauthorised occupants) Act, 1971, to be completed. This time, too, it was on a PIL that the High Court had passed its orders.

Conflicts between occupants of public land and the state that wants to reclaim the land are a never-ending saga in the country. A shortage of housing as well as inadequate recognition of the right to shelter means that large masses of people encroach on vacant land, be in on the bed of water bodies or government property. This often leads to attempts to evict the occupants and spawns litigation. Invariably, there are claims to occupancy rights based on long years of stay at the same location.

SubQuestion No : 25**Q.25 Identify the synonym of the word 'spawns' used in the passage.**

- Ans A. Nourishes
- B. Creates
- C. Destroys
- D. Feeds

Question ID : 630680177427

Status : Not Answered

Chosen Option : --

Section : General Aptitude

Q.1 निम्नलिखित में से किस स्पर्धा में अर्चना एस, धनलक्ष्मी, हिमा दास और दुती चंद की महिला टीम ने 43.37 के समय के साथ 4x100m रिले (relay) में भारतीय रिकॉर्ड बनाया?

- Ans A. 2021 में इंडियन ग्रैंड प्रिक्स IV (Indian Grand Prix IV in 2021)
- B. 2022 में नेशनल ओपन एथलेटिक्स चैंपियनशिप (National Open Athletics Championships in 2022)
- C. कॉमनवेल्थ गेम्स 2022 (Commonwealth Games 2022)
- D. पटियाला में फेडरेशन कप 2019 (Federation Cup in Patiala in 2019)

Question ID : 630680177445

Status : Not Answered

Chosen Option : --

Q.2 भारतीय पुरातत्व सर्वेक्षण (Archaeological Survey of India -ASI) द्वारा खुदाई किए गए सभी हड़प्पा स्थलों में धोलावीरा _____ सबसे बड़ा स्थल है?

- Ans A. तीसरा
- B. छठा
- C. चौथा
- D. दूसरा

Question ID : 630680177461

Status : Answered

Chosen Option : D

Q.3 अल-नीनो (El-Nino) के बारे में निम्नलिखित में से कौन से कथन असत्य हैं?

I. अल-नीनो एक जटिल मौसम प्रणाली है जो हर दस साल में एक बार देखी जाती है, जिससे दुनिया के विभिन्न हिस्सों में सूखा, बाढ़ और मौसम की अन्य चरम स्थितियां आती हैं।

II. अल-नीनो गर्म विषुवतीय धारा का विस्तार मात्र है जो अस्थायी रूप से ठंडी पेरूवियन धारा या हम्बोल्ट धारा द्वारा प्रतिस्थापित हो जाती है।

III. अल-नीनो (El-Nino) शब्द का अर्थ 'चाइल्ड क्रिस्ट (Child Christ)' है क्योंकि यह धारा जनवरी के पहले सप्ताह में क्रिसमस के ठीक बाद दिखाई देती है।

IV. अल-नीनो का उपयोग भारत में लंबी अवधि की मानसूनी वर्षा के पूर्वानुमान के लिए किया जाता है।

- Ans A. II और III
- B. II और IV
- C. I और III
- D. I और IV

Question ID : 630680177495

Status : Not Answered

Chosen Option : --

Q.4 नीचे दिए गए चार कथनों में से कौन से रासायनिक परिवर्तन के उदाहरण हैं?

I. पानी को विद्युत-अपघटन (इलेक्ट्रोलिसिस) द्वारा हाइड्रोजन और ऑक्सीजन में अलग किया जा सकता है।

II. चीनी पानी में घुलने में सक्षम होती है।

III. सिरका बेकिंग सोडा के साथ अभिक्रिया करेगा।

IV. यीस्ट चीनी के साथ क्रिया करके कार्बन डाइऑक्साइड और एथेनॉल बनाता है।

Ans A. I, III और IV

B. II और IV

C. II और III

D. I और IV

Question ID : 630680177513

Status : Answered

Chosen Option : A

Q.5 परमाणु बल का सिद्धांत किसने दिया था?

Ans A. जॉन बार्डीन (John Bardeen)

B. हिदेकी युकावा (Hideki Yukawa)

C. अर्नेस्ट ऑरलैंडो लॉरेंस (Ernest Orlando Lawrence)

D. सी.एच. टाउन्स (C.H. Townes)

Question ID : 630680177509

Status : Not Answered

Chosen Option : --

Q.6 एसआरएस (SRS) रिपोर्ट, 2010-13 के अनुसार भारत में शिशु मृत्यु दर का सबसे प्रचलित कारण क्या है?

Ans A. अतिसार रोग

B. पूर्व परिपक्वता और जन्म के समय कम वजन

C. न्यूमोनिया

D. तीव्र जीवाणुवीय पूतीयन और गंभीर संक्रमण

Question ID : 630680177499

Status : Answered

Chosen Option : D

Q.7 वहाबी आंदोलन (Wahabi Movement) भारत में तब हुआ था जब _____ भारत के वायसराय थे।

Ans A. लॉर्ड एल्गिन प्रथम (Lord Elgin I)

B. लॉर्ड नॉर्थब्रुक (Lord Northbrook)

C. लॉर्ड लिटन (Lord Lytton)

D. लॉर्ड मेयो (Lord Mayo)

Question ID : 630680177458

Status : Not Answered

Chosen Option : --

Q.8 5 जुलाई 2022 को खाद्य एवं सार्वजनिक वितरण विभाग (Department of Food and Public Distribution) ने भारत में किस शहर में खाद्य और पोषण सुरक्षा (Food and Nutrition Security) से संबंधित एक दिवसीय राष्ट्रीय सम्मेलन का आयोजन किया था?

- Ans
- A. मुंबई
 - B. अहमदाबाद
 - C. नई दिल्ली
 - D. हैदराबाद

Question ID : 630680177433
Status : Answered
Chosen Option : B

Q.9 2022 में विभिन्न उच्च न्यायालयों में आठ मुख्य न्यायाधीशों की नियुक्ति की गई। निम्न में से कौन सा उच्च न्यायालय उन 8 में से एक नहीं है जहां मुख्य न्यायाधीश की नियुक्ति हुई?

- Ans
- A. छत्तीसगढ़
 - B. कर्नाटक
 - C. हिमाचल प्रदेश
 - D. तेलंगाना

Question ID : 630680177525
Status : Answered
Chosen Option : A

Q.10 15 दिसंबर 2022 तक, देश में अक्षय ऊर्जा को बढ़ावा देने के लिए निम्नलिखित में से कौन से कदम उठाए गए हैं?

- I. ग्रीन एनर्जी ओपन एक्सेस रूल्स 2022 के माध्यम से अक्षय ऊर्जा को बढ़ावा देने की अधिसूचना
- II. प्रधानमंत्री किसान ऊर्जा सुरक्षा एवं उत्थान महाभियान (PM-KUSUM), सोलर रूफटॉप फेज II, 12000 मेगा वाट (MW) सेंट्रल पब्लिक सेक्टर अंडरटेकिंग (CPSU) स्कीम फेज II, आदि जैसी योजनाएं।
- III. बड़े पैमाने पर अक्षय ऊर्जा परियोजनाओं की स्थापना के लिए अक्षय ऊर्जा विकासकर्ताओं को जमीन और ट्रांसमिशन उपलब्ध कराने के लिए अल्ट्रा मेगा रिन्यूएबल एनर्जी पार्क की स्थापना
- IV. स्वचालित मार्ग के तहत 100 प्रतिशत तक प्रत्यक्ष विदेशी निवेश (FDI) की अनुमति देना

- Ans
- A. I, II, III और IV
 - B. II और III
 - C. I और II
 - D. I, II और IV

Question ID : 630680177501
Status : Answered
Chosen Option : C

Q.11 इंडियन बैंक के बारे में निम्नलिखित में से कौन सा कथन असत्य है?

- Ans A. वर्ष 1907 में, इंडियन बैंक लिमिटेड के पास अपने प्रतीक चिन्ह के एक हिस्से के रूप में 'बरगद' का पेड़ था, जो चारों ओर से प्रगति, विकास (दूर-दूर तक) और लगातार बढ़ती समृद्धि को दर्शाता है।
- B. इसे 5 मार्च 1907 को ₹20 लाख की अधिकृत पूंजी के साथ निगमित किया गया था और इसने 15 अगस्त 1907 को अपना कारोबार शुरू किया था।
- C. 1932 में, इंडियन बैंक ने कोलंबो में अपना पहला विदेशी परिचालन खोला था।
- D. इंडियन बैंक के लोगो में एक केंद्रीय बिंदु के चारों ओर व्यवस्थित तीन चक्करदार तीरों को वर्ष 2006 में अनुमोदित किया गया था।

Question ID : 630680177484

Status : Not Answered

Chosen Option : --

Q.12 1526 ई. में भारत पर बाबर के सफल आक्रमण ने _____ के शासन को समाप्त कर दिया था।

- Ans A. सेय्यद वंश
- B. खिलजी वंश
- C. लोदी वंश
- D. मामलुक वंश

Question ID : 630680177448

Status : Answered

Chosen Option : C

Q.13 देशी प्रेस के 'बेहतर नियंत्रण' के लिए वर्नाक्युलर प्रेस एक्ट को किस वर्ष में अधिनियमित किया गया था और देशद्रोही लेखन को प्रभावी ढंग से दंडित और दमन किया गया था?

- Ans A. 1761
- B. 1867
- C. 1878
- D. 1796

Question ID : 630680177454

Status : Answered

Chosen Option : A

Q.14 तीन नए राज्यों छत्तीसगढ़, उत्तराखंड और झारखंड का गठन तब हुआ था जब भारत के प्रधान मंत्री _____ थे।

- Ans A. इंदर कुमार गुजराल (Inder Kumar Gujral)
- B. अटल बिहारी वाजपेयी (Atal Bihari Vajpayee)
- C. पीवी नरसिम्हा राव (PV Narasimha Rao)
- D. मनमोहन सिंह (Manmohan Singh)

Question ID : 630680177522

Status : Answered

Chosen Option : B

Q.15 फरवरी 2022 के महीने में, सड़क परिवहन और राजमार्ग मंत्रालय (Ministry of Road Transport and Highways) ने हिट एंड रन मोटर दुर्घटनाओं के पीड़ितों के लिए मुआवजा ₹25,000 से बढ़ाकर _____ कर दिया।

- Ans
- A. ₹50,000
 - B. ₹2,00,000
 - C. ₹1,00,000
 - D. ₹1,50,000

Question ID : 630680177438
Status : Answered
Chosen Option : C

Q.16 भारत सरकार, खान मंत्रालय की वार्षिक रिपोर्ट 2021-22 के अनुसार, वर्ष 2021-22 में सीसा और जस्ता अयस्क के उत्पादन के लिए कितनी खदानें प्रतिवेदित की गईं?

- Ans
- A. 15
 - B. 8
 - C. 10
 - D. 12

Question ID : 630680177491
Status : Not Answered
Chosen Option : --

Q.17 सावधि जमा को _____ के रूप में भी जाना जाता है।

- Ans
- A. लंबी - अवधि की जमाओं (long-term deposits)
 - B. मांग जमाओं (demand deposits)
 - C. मियादी जमाओं (time deposits)
 - D. परिपक्व जमाओं (mature deposits)

Question ID : 630680177480
Status : Answered
Chosen Option : A

Q.18 निम्नलिखित शासकों में से किस शासक ने कथक नृत्य के विकास के लिए स्वयं को समर्पित किया था, जिसके परिणामस्वरूप लखनऊ घराना, या कथक का विद्यालय बना?

- Ans
- A. आसिम अली शाह
 - B. आसिफ अली शाह
 - C. वाजिद अली शाह
 - D. नासिर अली शाह

Question ID : 630680177464
Status : Answered
Chosen Option : A

Q.19 बजट दस्तावेज़ में व्यय के संबंध में निम्नलिखित में से कौन से कथन सही हैं?

- I. बजट दस्तावेज़ कुल व्यय को योजनागत और गैर-योजनागत व्यय में वर्गीकृत करते हैं।
- II. योजनागत व्यय में सरकार की सामान्य, आर्थिक और सामाजिक सेवाओं की एक विस्तृत श्रृंखला शामिल है।
- III. गैर-योजनागत राजस्व व्यय केंद्रीय योजनाओं (पंचवर्षीय योजनाओं) तथा राज्य और केंद्र शासित प्रदेशों की योजनाओं के लिए केंद्रीय सहायता से संबंधित है।
- IV. गैर-योजनागत व्यय की मुख्य मदें ब्याज भुगतान, रक्षा सेवाएं, सब्सिडी, वेतन और पेंशन हैं।

- Ans
- A. I और IV
 - B. II और III
 - C. II और IV
 - D. II, III और IV

Question ID : 630680177479

Status : Not Answered

Chosen Option : --

Q.20 पहचानें कि हिंदुस्तानी संगीत में थाट (Thata) के बारे में दिए गए कथनों में से कौन-से कथन सही हैं।

- I. बारह स्वरों में से चुने गए सात स्वरों का एक सेट (सात शुद्ध और पांच विकृत स्वर) एक थाट बनाता है।
- II. प्रसिद्ध संगीता शास्त्री पंडित विष्णु नारायण भातखंडे के अनुसार 15 थाट होते हैं।
- III. थाट से अंततः रागों की उत्तपत्ति होती है।

- Ans
- A. I और II
 - B. I और III
 - C. I, II और III
 - D. II और III

Question ID : 630680177472

Status : Not Answered

Chosen Option : --

Q.21 हिन्दुस्तानी संगीत की प्राचीनतम शैली धमार की विषय-वस्तु में निम्नलिखित में से किस उत्सव का वर्णन है?

- Ans
- A. होली
 - B. महाशिवरात्रि
 - C. दीपावली
 - D. जन्माष्टमी

Question ID : 630680177468

Status : Not Answered

Chosen Option : --

Q.22 _____ को छोड़कर निम्न में से शेष सभी में संगठन का अंग प्रणाली स्तर देखा जाता है।

- Ans
- A. एकिनोडर्मस (echinoderms)
 - B. मोलस्क (molluscs)
 - C. प्लैटीहेल्मिन्थीज़ (platyhelminthes)
 - D. आर्थ्रोपॉड (arthropods)

Question ID : 630680177506
Status : Not Answered
Chosen Option : --

Q.23 भारत के संविधान में कितने अनुच्छेदों में समानता के अधिकार का उल्लेख किया गया है?

- Ans
- A. चार
 - B. छह
 - C. तीन
 - D. पाँच

Question ID : 630680177516
Status : Answered
Chosen Option : D

Q.24 28 नवंबर 2022 तक 'आत्मनिर्भर भारत रोजगार योजना' (ABRY) योजना के तहत जम्मू और कश्मीर में कितने लाभार्थी लाभान्वित हुए?

- Ans
- A. 18.65 हजार
 - B. 16.75 हजार
 - C. 19.34 हजार
 - D. 20.87 हजार

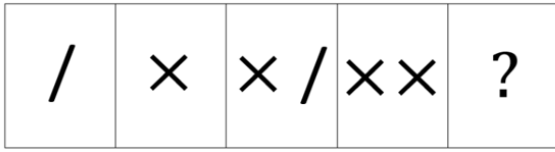
Question ID : 630680177442
Status : Not Answered
Chosen Option : --

Q.25 2014 से दिसंबर 2022 की अवधि के दौरान विज्ञान और इंजीनियरिंग (S&E) (लगभग 25,000) में पीएचडी (PhD) पूर्ण करने वाले लोगों की संख्या के मामले में भारत दुनिया में तीसरे स्थान पर है। क्रमशः पहले और दूसरे स्थान पर रहने वाले देशों की पहचान करें?

- Ans
- A. यूएस (US) और चीन
 - B. स्विट्जरलैंड और चीन
 - C. स्विट्जरलैंड और स्वीडन
 - D. यूएस (US) और फिनलैंड

Question ID : 630680177428
Status : Not Answered
Chosen Option : --

Q.1 दिए गए विकल्पों में से उस आकृति का चयन कीजिए जो निम्नलिखित श्रृंखला में प्रश्न चिह्न (?) को प्रतिस्थापित कर सकती है।

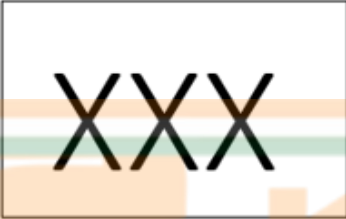


Ans

✗ A.



✗ B.



✓ C.



✗ D.



Question ID : 630680176460

Status : Answered

Chosen Option : C

Q.2 सोमवार से शुरू होकर पांच अलग-अलग दिनों में पांच अलग-अलग विषयों की अंतिम परीक्षा होती है और उसी सप्ताह में शुक्रवार को समाप्त होती है। विषय भौतिकी, हिंदी, रसायन विज्ञान, अंग्रेजी और जीव विज्ञान हैं लेकिन जरूरी नहीं कि इसी क्रम में हों। भौतिकी की परीक्षा और रसायन विज्ञान की परीक्षा के बीच में तीन परीक्षाएं होती हैं। जीव विज्ञान की परीक्षा और रसायन विज्ञान की परीक्षा के बीच दो दिनों का अंतर है। जीव विज्ञान की परीक्षा और अंग्रेजी की परीक्षा के बीच कोई परीक्षा आयोजित नहीं होती है। रसायन विज्ञान की परीक्षा से पहले भौतिक विज्ञान की परीक्षा नहीं होती है। निम्नलिखित में से कौन-सी परीक्षा बुधवार को होती है?

Ans

✗ A. जीव विज्ञान

✗ B. हिंदी

✓ C. अंग्रेजी

✗ D. रसायन विज्ञान

Question ID : 630680173380

Status : Answered

Chosen Option : C

Q.3 यदि '-' का अर्थ '+' है, '+' का अर्थ 'x' है, 'x' का अर्थ '-' है और '+' का अर्थ '+' है, तो निम्नलिखित व्यंजक का मान क्या है?

$$57 \times 49 + 7 - 35 \div 2 = ?$$

- Ans
- A. 121
 - B. 125
 - C. 120
 - D. 127

Question ID : 630680176483

Status : Answered

Chosen Option : C

Q.4 किसी निश्चित कूट भाषा में, VIJAY को REJBZ के रूप में कूटबद्ध किया गया है। उसी भाषा में FALLS को कैसे कूटबद्ध किया जाएगा?

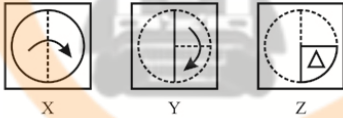
- Ans
- A. ZULOH
 - B. ZULHP
 - C. ZUMHO
 - D. ZULHO

Question ID : 630680177600

Status : Answered

Chosen Option : D

Q.5 कागज के एक टुकड़े को मोड़ने का क्रम (आकृति X और Y) और जिस तरह से मोड़े हुए कागज को काटा जाता है (आकृति Z), यह निम्नलिखित आकृतियों में दर्शाया गया है। यह कागज खोलने पर कैसा दिखेगा?



Ans

- A.
- B.
- C.
- D.

Question ID : 630680177643

Status : Answered

Chosen Option : C

Q.6 यदि शब्द "SABLEFISH" में प्रत्येक स्वर को अंग्रेजी वर्णानुक्रम में उसके बाद आने वाले अक्षर से बदल दिया जाता है और प्रत्येक व्यंजन को अंग्रेजी वर्णानुक्रम में उसके पूर्ववर्ती अक्षर से बदल दिया जाता है। तो निम्नलिखित में से कौन सा अक्षर दारें से चौथा होगा?

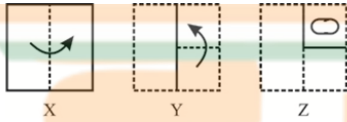
- Ans
- A. F
 - B. G
 - C. E
 - D. J

Question ID : 630680176416

Status : Answered

Chosen Option : C

Q.7 कागज के एक टुकड़े को मोड़ने का क्रम (आकृति X और Y) और जिस तरह से मोड़े हुए कागज को काटा जाता है (आकृति Z), वह निम्नलिखित आकृतियों में दर्शाया गया है। यह कागज खोलने पर कैसा दिखेगा?



Ans

- A.
- B.
- C.
- D.

Question ID : 630680177641

Status : Answered

Chosen Option : A

Q.8 दिव्या, फरीदा, लक्ष्मी, मीरा और सीता नामक पांच महिला मॉडलों को उनकी लंबाई के क्रम में रैंप पर चलने का निर्देश दिया गया। वह जो सबसे नाटी थी, पहले रैंप पर चली और जो सबसे लंबी थी, वह सबसे अंत में रैंप पर चली। सीता, दिव्या से नाटी है। रैंप पर सबसे पहले चलने वाली न तो फरीदा थी और न ही मीरा थी। सीता की लंबाई 175 cm थी और वह रैंप पर चलने वाली चौथी मॉडल थी। फरीदा, मीरा से पहले रैंप पर चली। निम्नलिखित में से कौन-सी मॉडल दूसरी सबसे नाटी मॉडल है?

- Ans
- A. मीरा
 - B. फरीदा
 - C. लक्ष्मी
 - D. दिव्या

Question ID : 630680173386
Status : Answered
Chosen Option : B

Q.9 उस विकल्प का चयन करें, जो तीसरे पद से उसी प्रकार संबंधित है, जिस प्रकार दूसरा पद पहले पद से संबंधित है।

RAJU : SCMY :: RAUF : ?

- Ans
- A. SCYJ
 - B. SCXJ
 - C. SCXI
 - D. SDXJ

Question ID : 630680177619
Status : Answered
Chosen Option : B

Q.10 चार अक्षर-समूह युग्म दिए गए हैं, जिनमें से तीन किसी न किसी तरीके से एक समान हैं, और एक असंगत है। उस असंगत अक्षर-समूह युग्म का चयन करें।

- Ans
- A. UGLIEST : TIIMZYM
 - B. VACATED : UCZEOKW
 - C. PATRICK : QYWNNWR
 - D. GARBAGE : FCOFVMX

Question ID : 630680177621
Status : Answered
Chosen Option : C

Q.11 दिए गए कथनों और निष्कर्षों को ध्यानपूर्वक पढ़ें। यह मानते हुए कि कथनों में दी गई जानकारी सत्य है, भले ही यह सामान्य रूप से ज्ञात तथ्यों से भिन्न प्रतीत होती हो, तय करें कि दिए गए निष्कर्षों में से कौन सा/से निष्कर्ष कथनों का तार्किक रूप से अनुसरण करता है/करते हैं।

कथन:

A. कुछ बकरियां, बाघ हैं।

B. सभी बाघ, शार्क हैं।

निष्कर्ष:

I. सभी बकरियां, शार्क हैं।

II. कुछ शार्क, बकरियां हैं।

Ans A. निष्कर्ष I और II दोनों अनुसरण करते हैं

B. केवल निष्कर्ष II अनुसरण करता है

C. कोई भी निष्कर्ष अनुसरण नहीं करता है

D. केवल निष्कर्ष I अनुसरण करता है

Question ID : 630680177580

Status : Answered

Chosen Option : B

Q.12 पारुल उत्तर दिशा की ओर चलना शुरू करता है। 5 km चलने के बाद वह दाएँ मुड़ता है और 3 km तक चलना जारी रखता है। 3 km चलने के बाद, वह अपने बाएँ मुड़ता है। वह किस दिशा में जा रहा है?

Ans A. पश्चिम

B. पूर्व

C. दक्षिण

D. उत्तर

Question ID : 630680176433

Status : Answered

Chosen Option : D

Q.13 दिए गए विकल्पों में से उस संख्या का चयन करें, जो निम्नलिखित समीकरण में प्रश्नवाचक चिन्ह (?) को प्रतिस्थापित कर सकती है।

$$67.89 + 33.69 \times 37.78 + 45.45 - 23.69 = ?$$

Ans A. 109

B. 144

C. 232

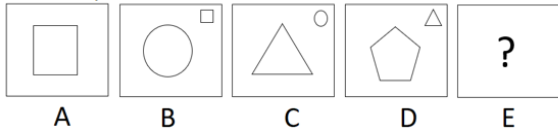
D. 97

Question ID : 630680177652

Status : Not Answered

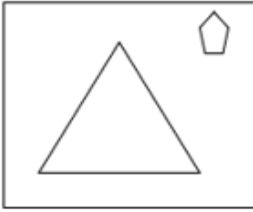
Chosen Option : --

Q.14 दिए गए विकल्पों में से उस आकृति का चयन कीजिए जो निम्नलिखित श्रृंखला में प्रश्न चिह्न (?) को प्रतिस्थापित कर सकती है।

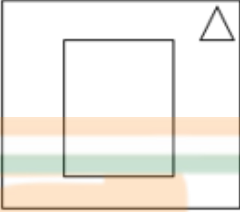


Ans

✗ A.



✗ B.



✓ C.



✗ D.



Question ID : 630680176457

Status : Answered

Chosen Option : C

Q.15 दिए गए विन्यास में ऐसे कितने व्यंजन हैं जिनके ठीक पहले एक व्यंजन है और ठीक बाद एक संख्या है?
5 K D I 5 A 10 % K L 2 G # Q @ 11 H I K \$

Ans

✓ A. दो

✗ B. चार

✗ C. तीन

✗ D. एक

Question ID : 630680176421

Status : Answered

Chosen Option : A

Q.16 आठ क्रिकेट टीम के कप्तान, भारत, ऑस्ट्रेलिया, दक्षिण अफ्रीका, न्यूजीलैंड, पाकिस्तान, श्रीलंका, इंग्लैंड और जिम्बाब्वे एक गोल के परितः केंद्र की ओर अभिमुख होकर बैठे हैं।

- भारतीय कप्तान, जिम्बाब्वे और पाकिस्तान के कप्तान के बीच बैठा है।
 - ऑस्ट्रेलियाई कप्तान, श्रीलंका और दक्षिण अफ्रीका के कप्तान के बीच बैठा है।
 - पाकिस्तानी कप्तान, श्रीलंका के कप्तान के सामने बैठा है।
 - जिम्बाब्वे का कप्तान, पाकिस्तान के कप्तान के दाएं से दूसरे स्थान पर बैठा है।
 - इंग्लैंड का कप्तान, ऑस्ट्रेलियाई कप्तान के बाएं से दूसरे स्थान पर बैठा है।
- न्यूजीलैंड के कप्तान के सामने कौन बैठा है?

- Ans
- ✗ A. जिम्बाब्वे
 - ✗ B. दक्षिण अफ्रीका
 - ✓ C. इंग्लैंड
 - ✗ D. ऑस्ट्रेलिया

Question ID : 630680177568
Status : Answered
Chosen Option : C

Q.17 दिए गए विकल्पों में से उस अक्षर-समूह का चयन करें, जो निम्नलिखित श्रृंखला में प्रश्नवाचक चिह्न (?) को प्रतिस्थापित कर सकता है।

AXE, BYF, DAH, ?, KHO

- Ans
- ✗ A. GFM
 - ✗ B. GCJ
 - ✗ C. GEL
 - ✓ D. GDK

Question ID : 630680177587
Status : Answered
Chosen Option : D

Q.18 मानक अंग्रेजी वर्णानुक्रम में दाएं छोर से 20वें अक्षर के दाएं से 17वां अक्षर कौन सा है?

- Ans
- ✓ A. X
 - ✗ B. C
 - ✗ C. B
 - ✗ D. Y

Question ID : 630680177573
Status : Answered
Chosen Option : A

Q.19 किसी निश्चित कूट भाषा में, SISTER को UFSJIT के रूप में कूटबद्ध किया गया है। उसी भाषा में MOTHER को कैसे कूटबद्ध किया जाएगा?

- Ans
- A. IFSNUP
 - B. FISNPU
 - C. IFSNPU
 - D. FISNUP

Question ID : 630680177603

Status : Not Answered

Chosen Option : --

Q.20 आठ खिलाड़ी राहुल, सौरव, सचिन, अजय, अजहर, जहीर, विराट और हरभजन एक गोल मेज के परितः केंद्र की ओर अभिमुख होकर निम्न प्रकार बैठे हैं।

- राहुल, सौरव के बाएं से दूसरे स्थान पर बैठा है।
- अजहर, सौरव के सामने बैठा है।
- विराट, हरभजन के सामने और सचिन और सौरव के बीच में बैठा है।
- जहीर, हरभजन के बाएं से दूसरे स्थान पर बैठा है।

हरभजन और जहीर के बीच कौन बैठा है?

- Ans
- A. अजहर
 - B. सचिन
 - C. अजय
 - D. राहुल

Question ID : 630680177565

Status : Answered

Chosen Option : A

Q.21 दिए गए डेटा को पढ़िए और नीचे दिए गए प्रश्न का उत्तर दीजिए।

यदि

$M + N$ का अर्थ है M, N की माता है;

$M - N$ का अर्थ है M, N का भाई है;

$M \times N$ का अर्थ है M, N का पिता है;

$M \times N$ का अर्थ है कि M, N की बहन है, तो ' $P + S \times N - Q$ ' के संबंध में N, P से किस प्रकार संबंधित है?

- Ans
- A. P का पुत्र
 - B. P का भाई
 - C. P की पुत्री
 - D. P के पिता

Question ID : 630680177609

Status : Answered

Chosen Option : A

Q.22 दिए गए विकल्पों में से उस संख्या का चयन करें, जो निम्नलिखित श्रृंखला में प्रश्नवाचक चिन्ह (?) को प्रतिस्थापित कर सकती है।

500, 450, 405, 365, 330, ?

- Ans
- A. 305
 - B. 310
 - C. 300
 - D. 295

Question ID : 630680177646

Status : Answered

Chosen Option : C

Q.23 चार अक्षर-समूह युग्म दिए गए हैं, जिनमें से तीन किसी न किसी तरीके से एक समान हैं, और एक असंगत है। उस असंगत अक्षर-समूह युग्म का चयन करें।

- Ans
- A. ICEBERG : FDJDHSF
 - B. VISIBLE : TJWJFMC
 - C. EAGLETS : HBFMTUF
 - D. HABITAT : CBIJUBU

Question ID : 630680177626

Status : Answered

Chosen Option : A

Q.24 दिए गए विकल्पों में से उस संख्या का चयन करें, जो निम्नलिखित श्रृंखला में प्रश्नवाचक चिन्ह (?) को प्रतिस्थापित कर सकती है।

12, 13, 15, 15, 18, 17, 21, ?

- Ans
- A. 21
 - B. 17
 - C. 19
 - D. 23

Question ID : 630680177648

Status : Answered

Chosen Option : C

Q.25 अक्षय ने एक वृद्ध स्त्री की ओर इशारा करते हुए कहा कि, "उसका बेटा मेरे बेटे का अंकल है"। उस वृद्ध स्त्री का अक्षय से क्या रिश्ता है?

- Ans
- A. सास
 - B. बहन
 - C. पिता
 - D. मां

Question ID : 630680176441

Status : Answered

Chosen Option : D

Section : Quantitative Aptitude

Q.1 एक लोलक 4 सेकंड में 6 बार बजता है और दूसरा लोलक 5 सेकंड में 8 बार बजता है। यदि दोनों लोलक एक ही समय में बजना आरंभ करते हैं, तो एक मिनट में कितनी स्पष्ट ध्वनियां सुनी जा सकती हैं?

- Ans
- A. 175
 - B. 179
 - C. 170
 - D. 181

Question ID : 630680177957

Status : Answered

Chosen Option : B

Q.2 एक निश्चित राशि पर 2 वर्षों का चक्रवृद्धि ब्याज और साधारण ब्याज क्रमशः ₹50.50 और ₹50 है। वार्षिक ब्याज दर क्या है?

- Ans
- A. 3.5%
 - B. 2.0%
 - C. 2.5%
 - D. 1.5%

Question ID : 630680177996

Status : Answered

Chosen Option : B

Q.3 एक व्यक्ति एक त्रिकोणीय उद्यान के चारों ओर घूम रहा था। उद्यान की विमाएँ 10 इकाइयाँ, 12 इकाइयाँ और 14 इकाइयाँ हैं। उस त्रिकोणीय उद्यान का क्षेत्रफल (वर्ग इकाई में) क्या है?

- Ans
- A. $24\sqrt{6}$
 - B. 24
 - C. $28\sqrt{6}$
 - D. $24\sqrt{3}$

Question ID : 630680178029

Status : Answered

Chosen Option : A

Q.4 यदि P का 45% = Q का $\frac{3}{8}$ है, तो P : Q का मान क्या है?

- Ans
- A. 4 : 5
 - B. 5 : 4
 - C. 5 : 6
 - D. 6 : 5

Question ID : 630680177982

Status : Answered

Chosen Option : C

Q.5 निम्नलिखित में से कौन-सी भिन्न $\frac{5}{11}$ और $\frac{9}{14}$ के बीच नहीं आती है?

- Ans
- A. $\frac{3}{5}$
 - B. $\frac{1}{2}$
 - C. $\frac{4}{7}$
 - D. $\frac{2}{3}$

Question ID : 630680177952

Status : Not Answered

Chosen Option : --

Q.6 दो ट्रेन एक ही समय पर A और B से शुरू होती तथा 85 km/h और 100 km/h की चाल से एक-दूसरे की ओर बढ़ती हैं। जब वे मिलती हैं, तो ज्ञात होता है कि एक ट्रेन ने दूसरी ट्रेन की तुलना में 210 km की दूरी अधिक तय की है, तो A और B के बीच की दूरी (km में) कितनी है?

- Ans
- A. 2480
 - B. 2500
 - C. 2590
 - D. 2650

Question ID : 630680178002

Status : Not Answered

Chosen Option : --

Q.7 जमा अवधि के 5 वर्ष बढ़ने पर ₹2500 की राशि पर मिलने वाला साधारण ब्याज ₹600 बढ़ जाता है। वार्षिक ब्याज दर ज्ञात कीजिये।

- Ans
- A. 5.6%
 - B. 4.5%
 - C. 4.8%
 - D. 4.2%

Question ID : 630680177990

Status : Answered

Chosen Option : C

Q.8 एक ट्रेन बिना किसी ठहराव के 120 km/h की औसत चाल से एक निश्चित दूरी तय करती है। उसी यात्रा से लौटते समय, ट्रेन उसी दूरी को ठहराव के साथ 80 km/h की औसत चाल से तय करती है। ट्रेन द्वारा लिया गया प्रति घंटा औसत ठहराव समय कितना है?

- Ans
- A. 20 मिनट
 - B. 24 मिनट
 - C. 30 मिनट
 - D. 32 मिनट

Question ID : 630680177999
Status : Not Answered
Chosen Option : --

Q.9 यदि 35 cm त्रिज्या वाले वृत्त के एक त्रिज्यखंड की चाप लंबाई 44 cm है, तो उसका केन्द्रीय कोण क्या है?

- Ans
- A. 24°
 - B. 36°
 - C. 54°
 - D. 72°

Question ID : 630680178039
Status : Not Answered
Chosen Option : --

Q.10 स्पोर्ट्स शूज का एक नया मॉडल ₹5,500 प्रति जोड़ी पर सूचीबद्ध (listed) है। एक सेल के दौरान, 15% की व्यापार छूट प्रदान की गई थी। प्रति जोड़ी जूतों पर दी जाने वाली व्यापार छूट की राशि (₹ में) क्या है?

- Ans
- A. 825
 - B. 850
 - C. 750
 - D. 800

Question ID : 630680177981
Status : Answered
Chosen Option : A

Q.11 निम्न तालिका वर्ष 2016 से 2020 तक शोरूम द्वारा बेची गई कारों की संख्या दर्शाती है।

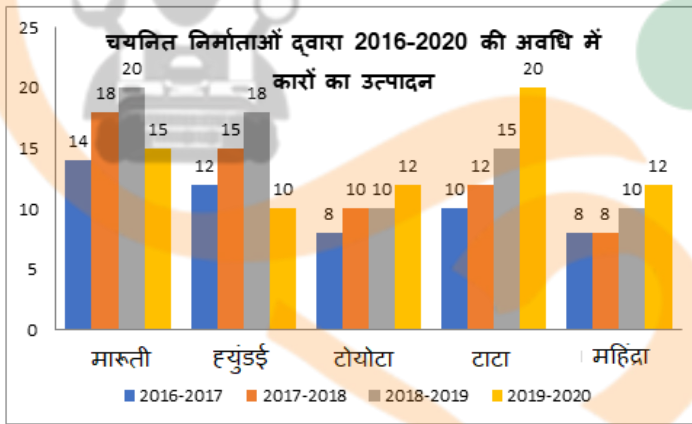
वर्ष / शोरूम	A	B	C	D
2016	183	123	277	167
2017	178	272	269	95
2018	133	161	226	176
2019	264	107	237	225
2020	278	272	216	284

वर्ष 2020 में सभी शोरूम द्वारा बेची गई कारों की औसत संख्या कितनी है?

- Ans
- A. 264
 - B. 268.5
 - C. 262.5
 - D. 272

Question ID : 630680178016
Status : Answered
Chosen Option : C

Q.12 निम्नलिखित आलेख कारों के उत्पादन को हजारों में दर्शाता है।



2016 से 2020 तक टाटा कंपनी के उत्पादन में कितने प्रतिशत की वृद्धि हुई है?

- Ans
- A. 75%
 - B. 80%
 - C. 110%
 - D. 100%

Question ID : 630680178020
Status : Answered
Chosen Option : D

Q.13 एक ट्रेन पहले 20 km की दूरी को 30 km/h की चाल से, दूसरे 30 km की दूरी को 45 km/h की चाल से और अंतिम 15 km की दूरी को x km/h की चाल से तय करती है। यदि पूरी यात्रा की औसत चाल 32.5 km/h है, तो x का मान क्या है?

- Ans
- A. 20
 - B. 16
 - C. 18.5
 - D. 22.5

Question ID : 630680177965

Status : Answered

Chosen Option : D

Q.14 महानगर का प्रदूषण पहले 25% से बढ़ा और फिर 30% घटा। प्रदूषण में क्या परिवर्तन हुआ है?

- Ans
- A. 12.5% कमी
 - B. 14.5% कमी
 - C. 12.5% वृद्धि
 - D. 14.5% वृद्धि

Question ID : 630680177970

Status : Answered

Chosen Option : C

Q.15 10 लड़के एक कार्य को पूरा करने में 15 दिन लेते हैं, जिसे 6 पुरुष 10 दिनों में पूरा कर सकते हैं। 15 पुरुषों ने कार्य करना आरंभ किया और 2 दिनों के बाद, 10 पुरुष चले गए और 10 लड़के उनके साथ कार्य में लग गए। शेष कार्य को पूरा करने में उन्हें कितने दिन लगेंगे?

- Ans
- A. 6
 - B. $\frac{16}{3}$
 - C. 4
 - D. $\frac{10}{3}$

Question ID : 630680178009

Status : Answered

Chosen Option : D

Q.16 एक कॉलेज के लड़कों और लड़कियों की संख्या का अनुपात 5 : 7 है। यदि 30% लड़के और 40% लड़कियां छात्रवृत्ति धारक हैं, तो छात्रवृत्ति न पाने वाले विद्यार्थियों का प्रतिशत लगभग कितना है?

- Ans
- A. 69.8%
 - B. 67.4%
 - C. 72.5%
 - D. 64.2%

Question ID : 630680177973
Status : Answered
Chosen Option : D

Q.17 ABC एक त्रिभुज है, जो केंद्र O वाले एक वृत्त में अंकित (inscribed) है। यदि AB = 8cm, BC = 15cm और AC = 17cm है, तो त्रिभुज की परिविज्या (cm में) क्या है?

- Ans
- A. 8.5
 - B. 7.5
 - C. 10.5
 - D. 6.5

Question ID : 630680178041
Status : Not Answered
Chosen Option : --

Q.18 किसी वस्तु की गिरने की ऊंचाई, समय के घन के समानुपाती है। एक वस्तु 4 सेकण्ड में 192 cm तक गिरती है, तो 7 सेकण्ड में वस्तु कितनी ऊंचाई (cm में) से गिरेगी?

- Ans
- A. 1009
 - B. 1029
 - C. 1059
 - D. 1079

Question ID : 630680177988
Status : Not Answered
Chosen Option : --

Q.19 यदि सुरेश ₹2.50 प्रति मास्क की कीमत पर किसी निश्चित संख्या में फेसमास्क को बेचता है तो ₹1,250 का लाभ कमाता है और यदि वह ₹2.25 प्रति पेंसिल की कीमत पर उतनी ही संख्या पेंसिल को बेचता है तो उसे ₹150 की हानि होती है, दोनों का क्रय मूल्य समान है। सुरेश के पास कितने फेसमास्क हैं?

- Ans
- A. 5800
 - B. 5600
 - C. 5400
 - D. 6200

Question ID : 630680177976
Status : Not Answered
Chosen Option : --

Q.20 यदि $x + \frac{1}{x} = 4$, तो $x^4 + \frac{1}{x^4} = ?$

- Ans
- A. 256
 - B. 148
 - C. 62
 - D. 194

Question ID : 630680178024

Status : Answered

Chosen Option : D

Q.21 A किसी कार्य को 15 दिनों में कर सकता है। B, A से 50% अधिक कार्यकुशल है। B ने 8 दिनों तक वह कार्य किया। A शेष कार्य को कितने दिनों में पूरा कर सकता है?

- Ans
- A. 5 दिन
 - B. 3 दिन
 - C. 10 दिन
 - D. 2 दिन

Question ID : 630680178010

Status : Not Answered

Chosen Option : --

Q.22 प्रश्न हल करें $\frac{\sqrt{52} + \sqrt{208}}{\sqrt{117}} = ?$

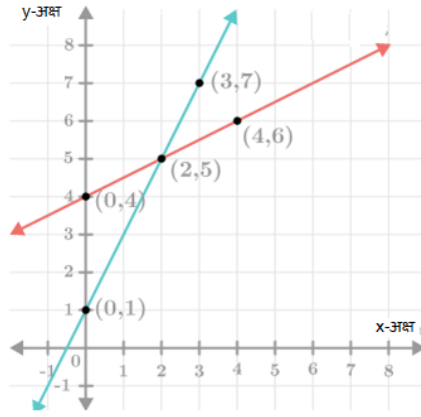
- Ans
- A. 1
 - B. 2
 - C. $\frac{1}{\sqrt{3}}$
 - D. $\frac{1}{3}$

Question ID : 630680177949

Status : Answered

Chosen Option : B

Q.23



निम्नलिखित में से कौन-सा रेखिक समीकरण निकाय उपरोक्त आलेख को निरूपित करता है?

- Ans
- A. $2x + y + 1 = 0, x + 2y + 8 = 0$
 - B. $2x + y + 1 = 0, x - 2y + 8 = 0$
 - C. $2x - y + 1 = 0, x - 2y + 8 = 0$
 - D. $2x - y + 1 = 0, x + 2y + 8 = 0$

Question ID : 630680178025

Status : Answered

Chosen Option : C

Q.24 त्रिभुज ABC में, AB = 10cm, AC = 12cm है, AB पर बिंदु D इस प्रकार लिया जाता है कि BD = 5cm और CD, AB के लंबवत है। DE को AC के लंबवत खींचा जाता है, जो AC को E पर इस प्रकार काटती है कि चतुर्भुज BCED का क्षेत्रफल, त्रिभुज ABC के क्षेत्रफल का $\frac{2}{3}$ होता है। CE की माप (cm में) क्या है?

- Ans
- A. 6
 - B. 10
 - C. 8
 - D. 12

Question ID : 630680178035

Status : Not Answered

Chosen Option : --

Q.25 हैदराबाद से बेंगलूर जाने वाली बस की चाल 80 km/h है, जबकि बेंगलूर से हैदराबाद वापस आते समय उसकी चाल 100 km/h है। पूरी यात्रा के लिए उसकी औसत चाल (km/h में) क्या है (दो दशमलव स्थानों तक सही)?

- Ans
- A. 82.59
 - B. 86.77
 - C. 80.27
 - D. 88.89

Question ID : 630680177961

Status : Answered

Chosen Option : D